

**¿CUÁNTOS MINUTOS FALTAN
PARA LLEGAR A EN PUNTO?**



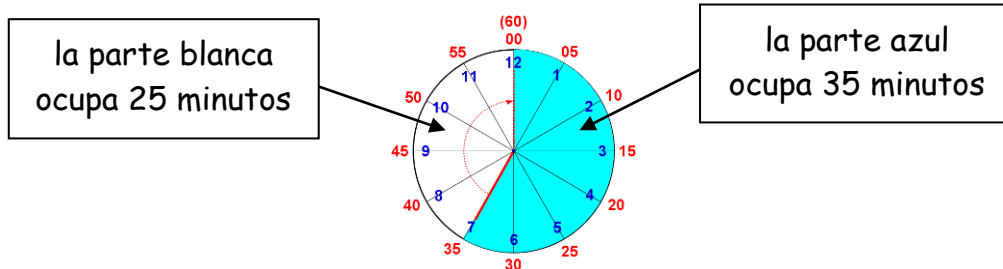
ÍNDICE

	Pág.
La varilla larga divide los 60 minutos en dos partes	3
Indicar los minutos que ocupa cada parte	7
¿Cuántos minutos faltan para llegar a en punto?	13
¿Cuántos minutos han pasado?	15
Problemas	35

Ya sabes que una hora tiene 60 minutos.

La varilla larga del reloj divide en dos partes los 60 minutos:

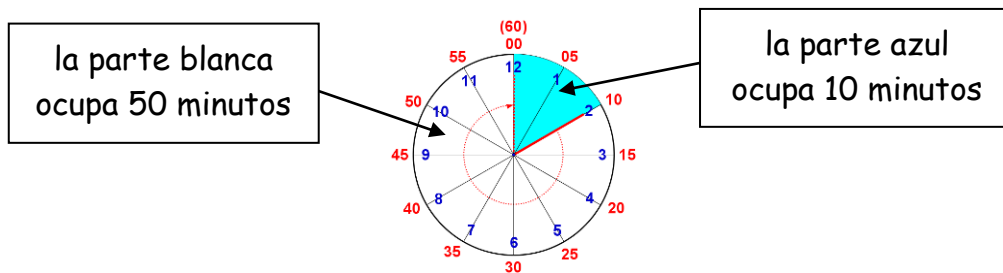
Por ejemplo:



Parte azul Parte blanca

$$\boxed{35} + \boxed{25} = \boxed{60}$$

la suma de la parte azul y la parte blanca es siempre de 60 minutos



Parte azul Parte blanca

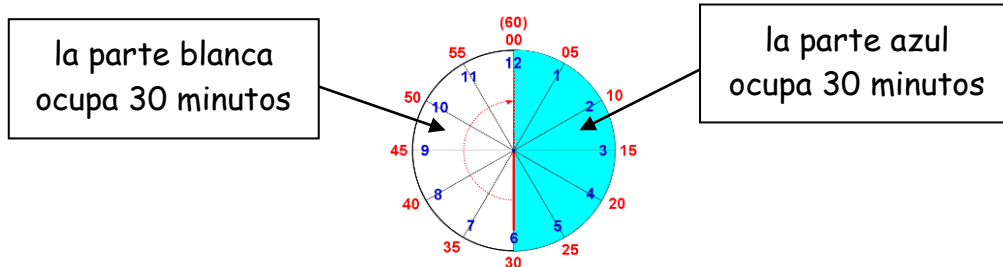
$$\boxed{10} + \boxed{50} = \boxed{60}$$

la suma de la parte azul y la parte blanca es siempre de 60 minutos

Ya sabes que una hora tiene 60 minutos.

La varilla larga del reloj divide en dos partes los 60 minutos:

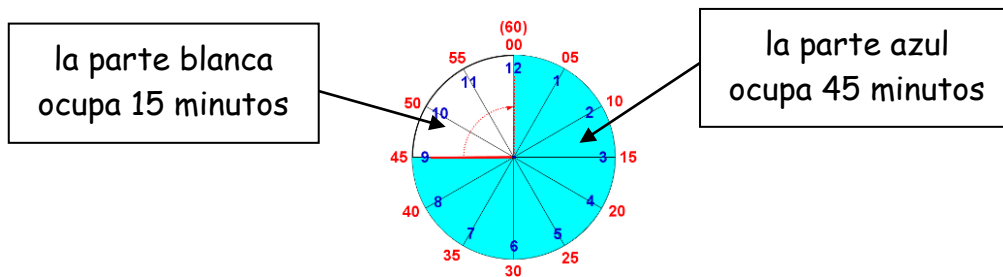
Por ejemplo:



Parte azul Parte blanca

$$\boxed{30} + \boxed{30} = \boxed{60}$$

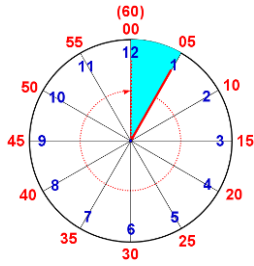
la suma de la parte azul y la parte blanca es siempre de 60 minutos



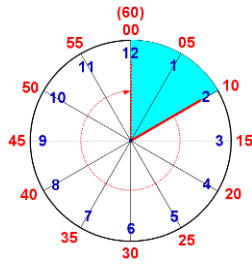
Parte azul Parte blanca

$$\boxed{45} + \boxed{15} = \boxed{60}$$

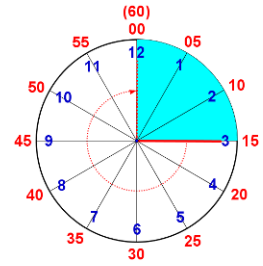
la suma de la parte azul y la parte blanca es siempre de 60 minutos



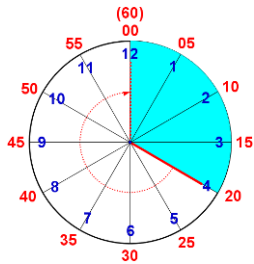
Parte azul: **5 min.**
 Parte blanca: **55 min.**



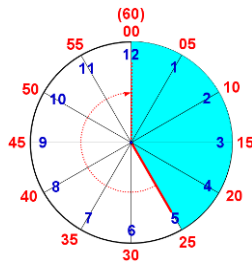
Parte azul: **10 min.**
 Parte blanca: **50 min.**



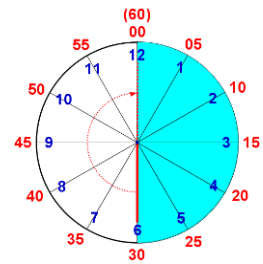
Parte azul: **15 min.**
 Parte blanca: **45 min.**



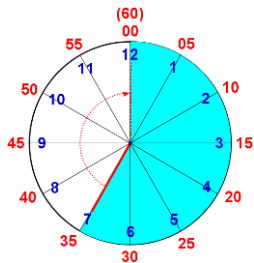
Parte azul: **20 min.**
 Parte blanca: **40 min.**



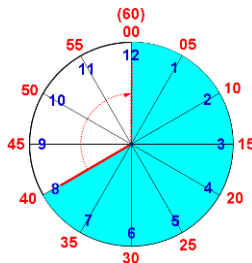
Parte azul: **25 min.**
 Parte blanca: **35 min.**



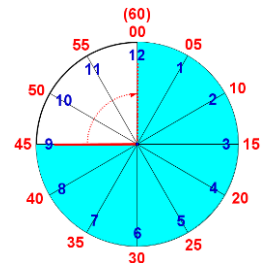
Parte azul: **30 min.**
 Parte blanca: **30 min.**



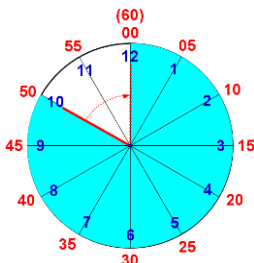
Parte azul: **35 min.**
 Parte blanca: **25 min.**



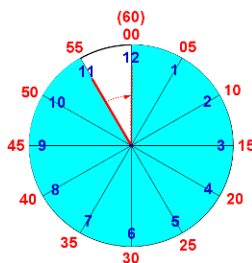
Parte azul: **40 min.**
 Parte blanca: **20 min.**



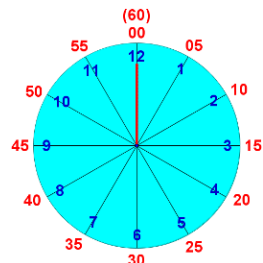
Parte azul: **45 min.**
 Parte blanca: **15 min.**



Parte azul: **50 min.**
 Parte blanca: **10 min.**

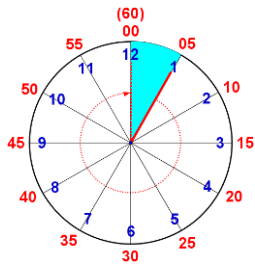


Parte azul: **55 min.**
 Parte blanca: **5 min.**

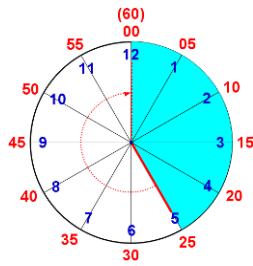


Parte azul: **60 min.**
 Parte blanca: **0 min.**

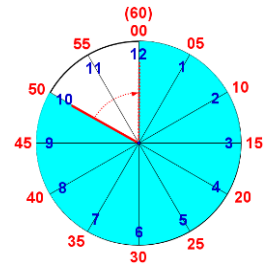
Indica **los minutos** que ocupa cada parte:



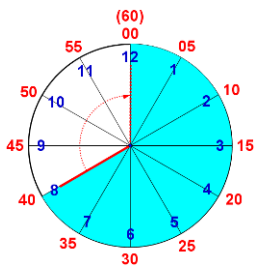
Parte azul: _____
 Parte blanca: _____



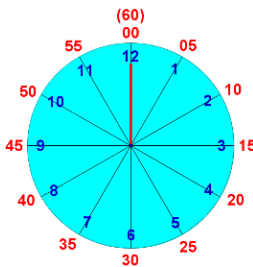
Parte azul: _____
 Parte blanca: _____



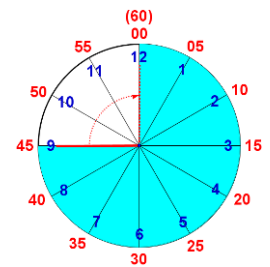
Parte azul: _____
 Parte blanca: _____



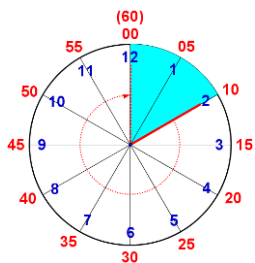
Parte azul: _____
 Parte blanca: _____



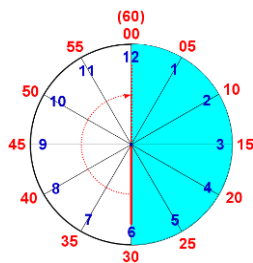
Parte azul: _____
 Parte blanca: _____



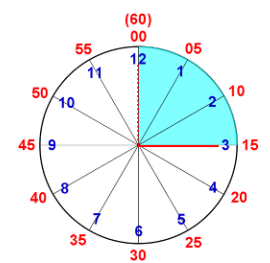
Parte azul: _____
 Parte blanca: _____



Parte azul: _____
 Parte blanca: _____

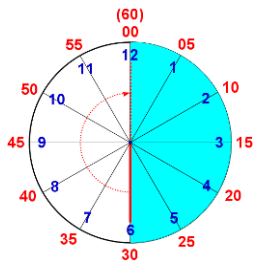


Parte azul: _____
 Parte blanca: _____

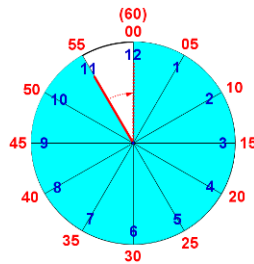


Parte azul: _____
 Parte blanca: _____

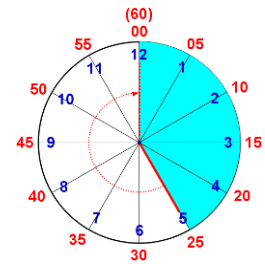
Indica **los minutos** que ocupa cada parte:



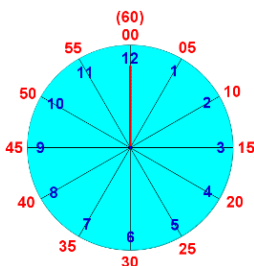
Parte azul: _____
 Parte blanca: _____



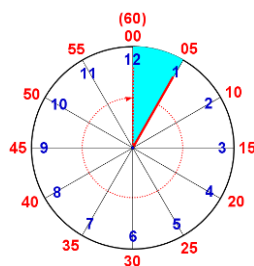
Parte azul: _____
 Parte blanca: _____



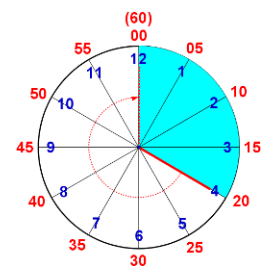
Parte azul: _____
 Parte blanca: _____



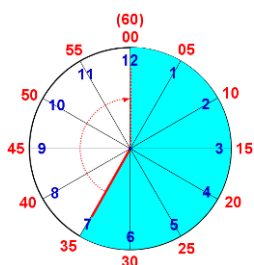
Parte azul: _____
 Parte blanca: _____



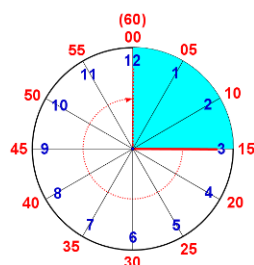
Parte azul: _____
 Parte blanca: _____



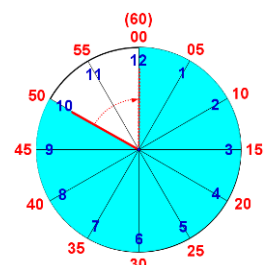
Parte azul: _____
 Parte blanca: _____



Parte azul: _____
 Parte blanca: _____

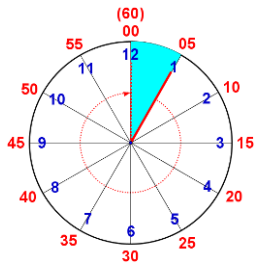


Parte azul: _____
 Parte blanca: _____

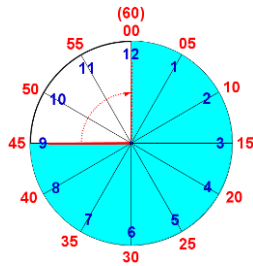


Parte azul: _____
 Parte blanca: _____

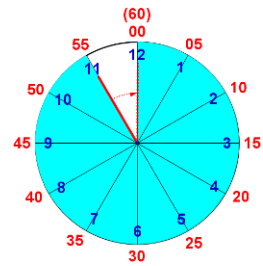
Indica **los minutos** que ocupa cada parte:



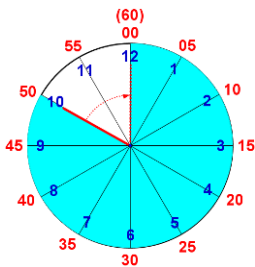
Parte azul: _____
 Parte blanca: _____



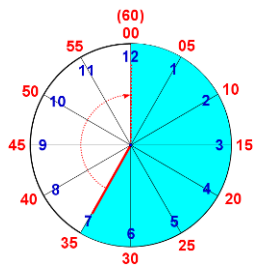
Parte azul: _____
 Parte blanca: _____



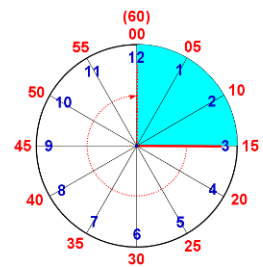
Parte azul: _____
 Parte blanca: _____



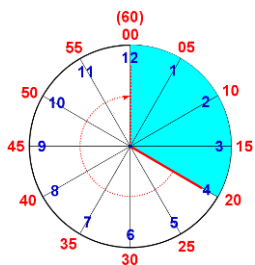
Parte azul: _____
 Parte blanca: _____



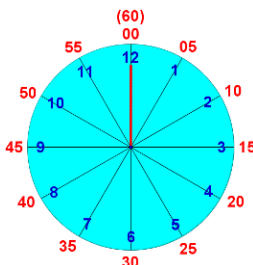
Parte azul: _____
 Parte blanca: _____



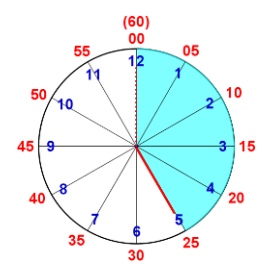
Parte azul: _____
 Parte blanca: _____



Parte azul: _____
 Parte blanca: _____

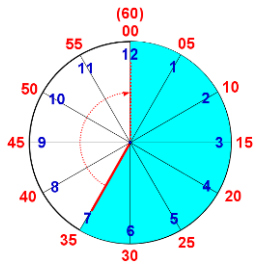


Parte azul: _____
 Parte blanca: _____

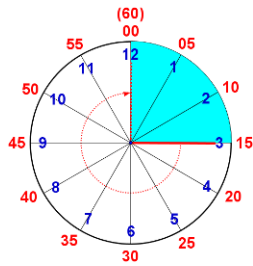


Parte azul: _____
 Parte blanca: _____

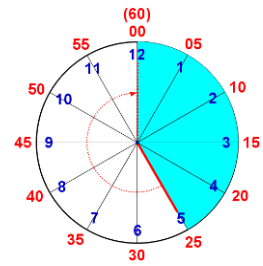
Indica **los minutos** que ocupa cada parte:



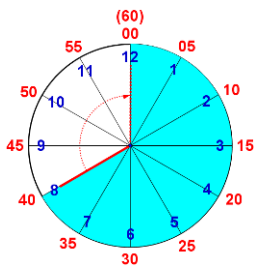
Parte azul: _____
 Parte blanca: _____



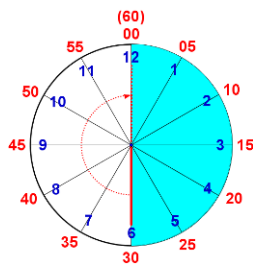
Parte azul: _____
 Parte blanca: _____



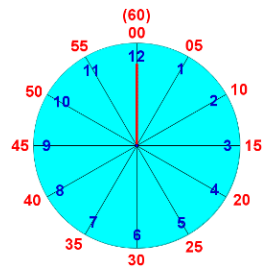
Parte azul: _____
 Parte blanca: _____



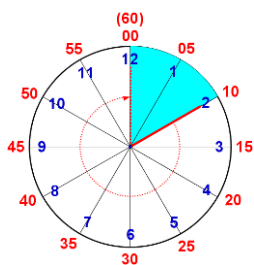
Parte azul: _____
 Parte blanca: _____



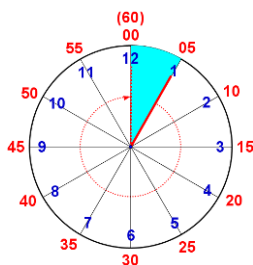
Parte azul: _____
 Parte blanca: _____



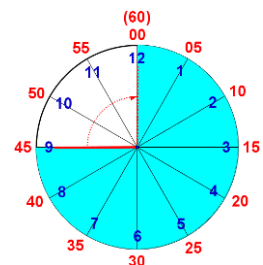
Parte azul: _____
 Parte blanca: _____



Parte azul: _____
 Parte blanca: _____

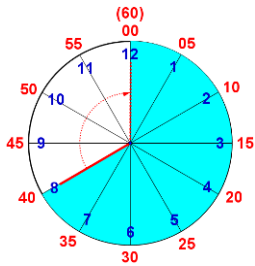


Parte azul: _____
 Parte blanca: _____

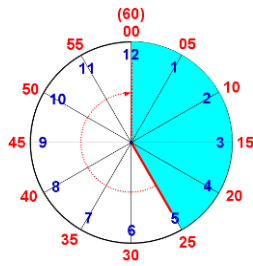


Parte azul: _____
 Parte blanca: _____

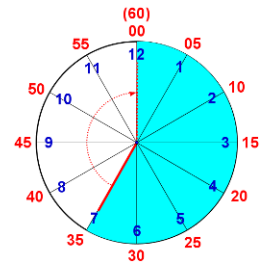
Indica **los minutos** que ocupa cada parte:



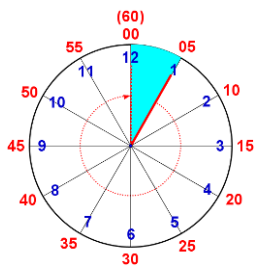
Parte azul: _____
 Parte blanca: _____



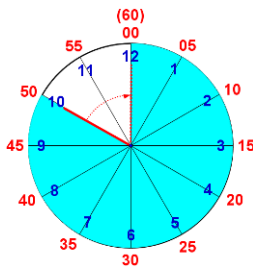
Parte azul: _____
 Parte blanca: _____



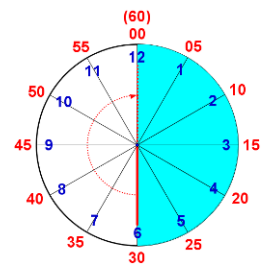
Parte azul: _____
 Parte blanca: _____



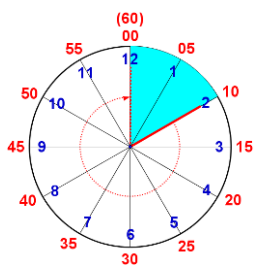
Parte azul: _____
 Parte blanca: _____



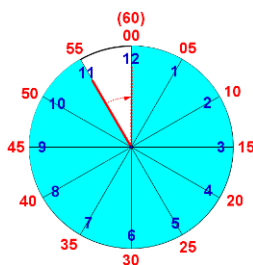
Parte azul: _____
 Parte blanca: _____



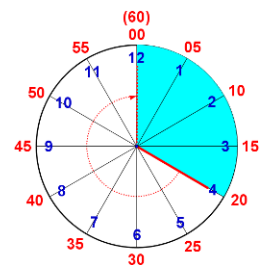
Parte azul: _____
 Parte blanca: _____



Parte azul: _____
 Parte blanca: _____

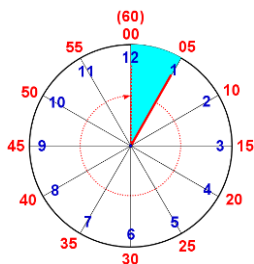


Parte azul: _____
 Parte blanca: _____

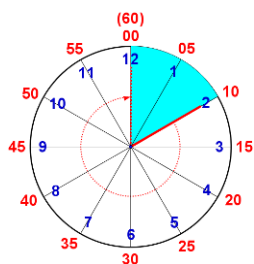


Parte azul: _____
 Parte blanca: _____

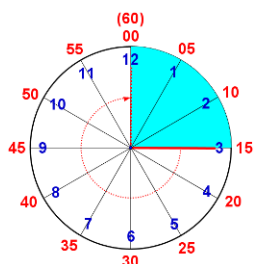
¿CUÁNTOS MINUTOS FALTAN PARA LLEGAR A EN PUNTO?



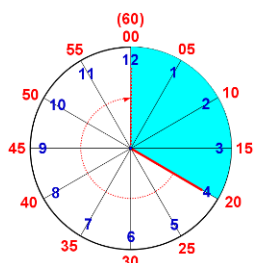
Si son "y cinco",
faltan cincuenta y cinco minutos
para llegar a en punto.
(5 + 55 = 60)



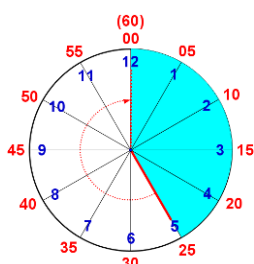
Si son "y diez",
faltan cincuenta minutos
para llegar a en punto.
(10 + 50 = 60)



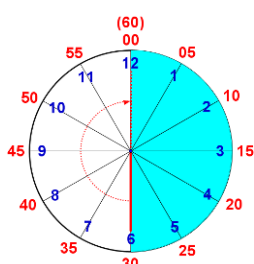
Si son "y cuarto",
faltan cuarenta y cinco minutos
para llegar a en punto.
(15 + 45 = 60)



Si son "y veinte",
faltan cuarenta minutos
para llegar a en punto.
(20 + 40 = 60)

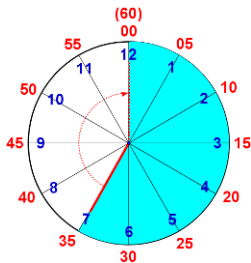


Si son "y veinticinco",
faltan treinta y cinco minutos
para llegar a en punto.
(25 + 35 = 60)

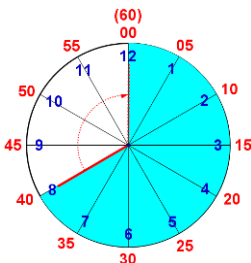


Si son "y media",
faltan treinta minutos
para llegar a en punto.
(30 + 30 = 60)

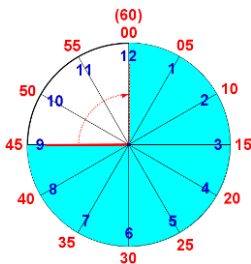
¿CUÁNTOS MINUTOS FALTAN PARA LLEGAR A EN PUNTO?



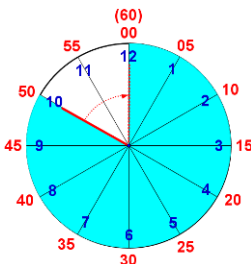
Si son "y treinta y cinco",
faltan veinticinco minutos
para llegar a en punto.
(35 + 25 = 60)



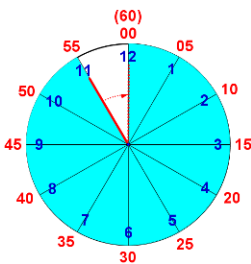
Si son "y cuarenta",
faltan veinte minutos
para llegar a en punto.
(40 + 20 = 60)



Si son "y cuarenta y cinco",
faltan quince minutos
para llegar a en punto.
(45 + 15 = 60)



Si son "y cincuenta",
faltan diez minutos
para llegar a en punto.
(50 + 10 = 60)

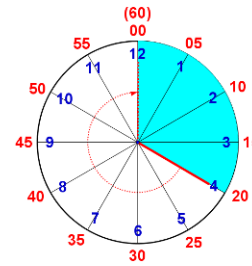


Si son "y cincuenta y cinco",
faltan cinco minutos
para llegar a en punto.
(55 + 5 = 60)

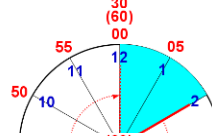
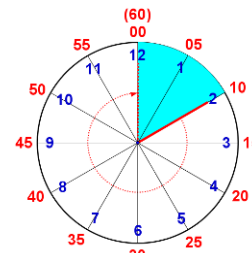
Fíjate en las siguientes horas y di cuántos minutos han pasado:



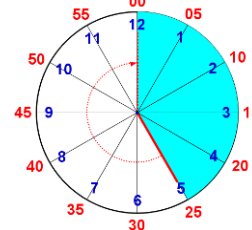
Han pasado ____ minutos



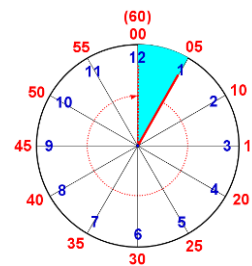
Han pasado ____ minutos



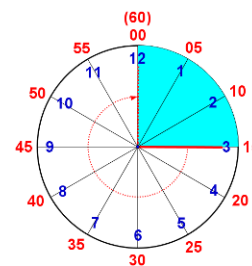
Han pasado ____ minutos



Han pasado ____ minutos



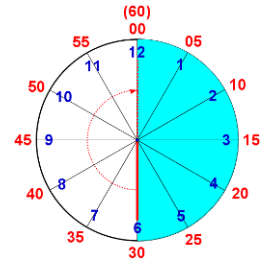
Han pasado ____ minutos




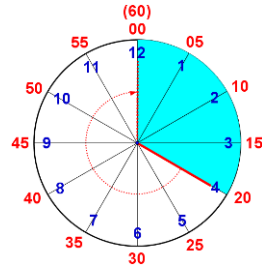
Fíjate en las siguientes horas y di cuántos minutos han pasado:



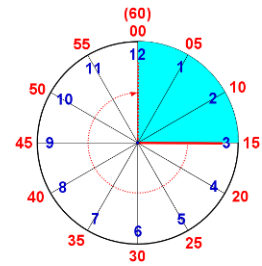
Han pasado ____ minutos



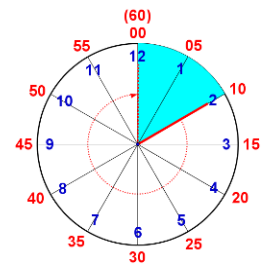
Han pasado ____ minutos



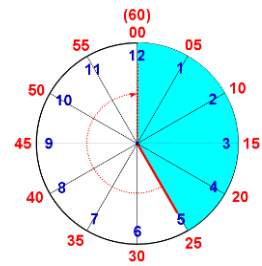
Han pasado ____ minutos



Han pasado ____ minutos



Han pasado ____ minutos



Fíjate en las siguientes horas y di cuántos minutos han pasado:




Han pasado ___ minutos



Han pasado ___ minutos



Han pasado ___ minutos



Han pasado ___ minutos



Han pasado ___ minutos

Fíjate en las siguientes horas y di cuántos minutos han pasado:



Han pasado ___ minutos



Han pasado ___ minutos



Han pasado ___ minutos



Han pasado ___ minutos

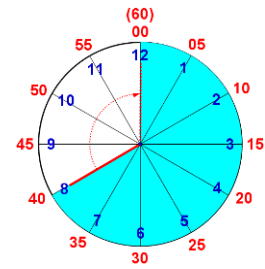


Han pasado ___ minutos

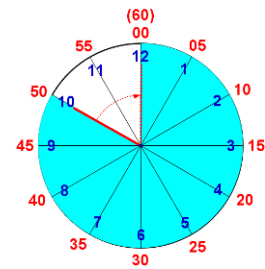
Fíjate en las siguientes horas y di cuántos minutos han pasado:



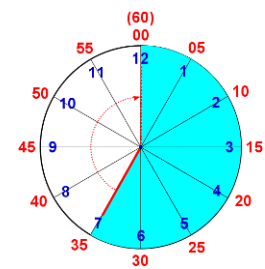
Han pasado ____ minutos



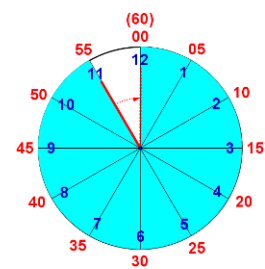
Han pasado ____ minutos



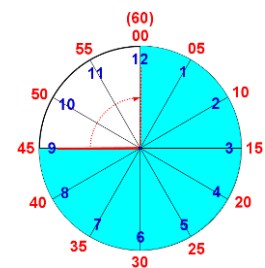
Han pasado ____ minutos



Han pasado ____ minutos




Han pasado ____ minutos

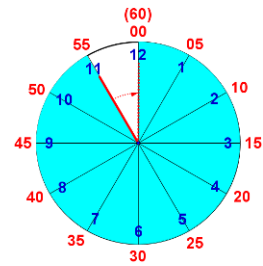


Fíjate en las siguientes horas y di cuántos minutos han pasado:


04:55 05:00



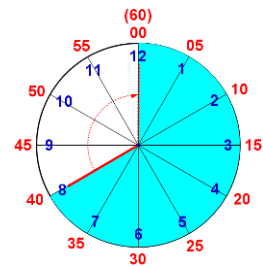
Han pasado ____ minutos




08:40 09:00



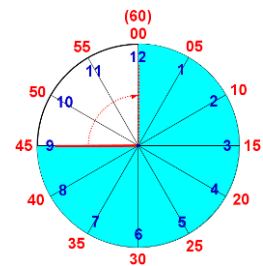
Han pasado ____ minutos




10:45 11:00



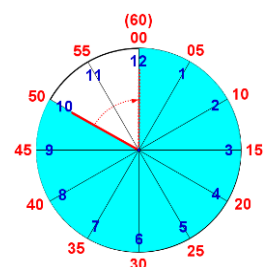
Han pasado ____ minutos




01:50 02:00



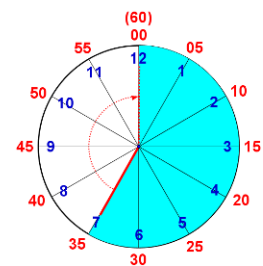
Han pasado ____ minutos




07:35 08:00



Han pasado ____ minutos



Fíjate en las siguientes horas y di cuántos minutos han pasado:




Han pasado ___ minutos



Han pasado ___ minutos



Han pasado ___ minutos



Han pasado ___ minutos



Han pasado ___ minutos

Fíjate en las siguientes horas y di cuántos minutos han pasado:



Han pasado ___ minutos



Han pasado ___ minutos



Han pasado ___ minutos



Han pasado ___ minutos




Han pasado ___ minutos

Fíjate en las siguientes horas y di cuántos minutos han pasado:



Han pasado ___ minutos



Han pasado ___ minutos



Han pasado ___ minutos



Han pasado ___ minutos



Han pasado ___ minutos

Fíjate en las siguientes horas y di cuántos minutos han pasado:



Han pasado ___ minutos



Han pasado ___ minutos



Han pasado ___ minutos



Han pasado ___ minutos




Han pasado ___ minutos

Fíjate en las siguientes horas y di cuántos minutos han pasado:



Han pasado ___ minutos



Han pasado ___ minutos



Han pasado ___ minutos



Han pasado ___ minutos



Han pasado ___ minutos

Fíjate en las siguientes horas y di cuántos minutos han pasado:



Han pasado ___ minutos



Han pasado ___ minutos



Han pasado ___ minutos



Han pasado ___ minutos



Han pasado ___ minutos


Fíjate en las siguientes horas y di cuántos minutos han pasado:



Han pasado ___ minutos




Han pasado ___ minutos



Han pasado ___ minutos



Han pasado ___ minutos



Han pasado ___ minutos

Fíjate en las siguientes horas y di cuántos minutos han pasado:



Han pasado ___ minutos



Han pasado ___ minutos



Han pasado ___ minutos



Han pasado ___ minutos



Han pasado ___ minutos


Fíjate en las siguientes horas y di cuántos minutos han pasado:



Han pasado ___ minutos



Han pasado ___ minutos



Han pasado ___ minutos



Han pasado ___ minutos



Han pasado ___ minutos

Fíjate en las siguientes horas y di cuántos minutos han pasado:



Han pasado ___ minutos



Han pasado ___ minutos



Han pasado ___ minutos



Han pasado ___ minutos



Han pasado ___ minutos

Fíjate en las siguientes horas y di cuántos minutos han pasado:



Han pasado minutos




Han pasado minutos



Han pasado minutos



Han pasado minutos



Han pasado minutos

Fíjate en las siguientes horas y di cuántos minutos han pasado:



Han pasado ____ minutos



Han pasado ____ minutos



Han pasado ____ minutos



Han pasado ____ minutos



Han pasado ____ minutos

Fíjate en las siguientes horas y di cuántos minutos han pasado:



Han pasado ___ minutos



Han pasado ___ minutos



Han pasado 30 minutos



Han pasado ___ minutos



Han pasado 30 minutos

Fíjate en las siguientes horas y di cuántos minutos han pasado:



Han pasado minutos



Han pasado 30 minutos



Han pasado minutos



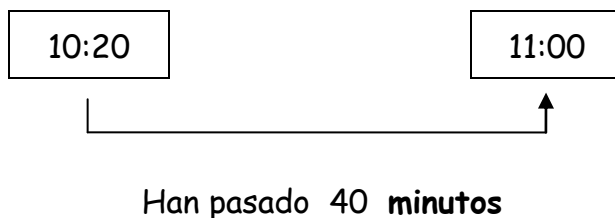
Han pasado 30 minutos



Han pasado minutos


PROBLEMAS

Sergio empezó a leer a las 10:20 y terminó a las 11:00. ¿Cuánto tiempo estuvo leyendo?




Solución: Sergio estuvo leyendo cuarenta minutos.

María empezó a leer a las 09:35 y terminó a las 10:00. ¿Cuánto tiempo estuvo leyendo?



Solución: María estuvo leyendo _____ .

Carlos empezó a leer a las 08:05 y terminó a las 09:00. ¿Cuánto tiempo estuvo leyendo?



Solución: Carlos estuvo leyendo _____ .

cinco y media
de la tarde

seis
de la tarde

Roberto empezó a trabajar a las **17:30** y terminó a las **18:00**. ¿Cuánto tiempo estuvo trabajando?



Han pasado ____ minutos

Solución:

diez menos veinte
de la noche

diez
de la noche

Victoria empezó a leer a las **21:40** y terminó a las **22:00**. ¿Cuánto tiempo estuvo leyendo?




Han pasado ____ minutos

Solución:

cuatro y diez
de la tarde

cinco
de la tarde

Amparo empezó a trabajar a las **16:10** y terminó a las **17:00**. ¿Cuánto tiempo estuvo trabajando?



Han pasado ____ minutos

Solución:

nueve menos cinco
de la noche

nueve
de la noche

Llanos empezó a leer a las **20:55** y terminó a las **21:00**. ¿Cuánto tiempo estuvo leyendo?




Han pasado ____ minutos

Solución:

cuatro menos diez
de la tarde

cuatro
de la tarde

Francisco empezó a trabajar a las **15:50** y terminó a las **16:00**. ¿Cuánto tiempo estuvo trabajando?



Han pasado ____ minutos

Solución: _____

diez y cuarto
de la noche

once
de la noche

Roberto empezó a leer a las **22:15** y terminó a las **23:00**. ¿Cuánto tiempo estuvo leyendo?



Han pasado ____ minutos

Solución: _____

Raúl empezó a trabajar a las **11:05** y terminó a las **12:00** . ¿Cuánto tiempo estuvo trabajando?

Solución:

Marta empezó a leer a las **20:45** y terminó a las **21:00** . ¿Cuánto tiempo estuvo leyendo?

Solución:

Fernando empezó a preparar la cena a las **19:25** y terminó a las **20:00** . ¿Cuánto tiempo estuvo preparando la cena?

Solución:

Mariano empezó a preparar la comida a las **12:10** y terminó a las **13:00** . ¿Cuánto tiempo estuvo preparando la comida?

Solución:

Julián empezó a trabajar a las **07:35** y terminó a las **08:00** . ¿Cuánto tiempo estuvo trabajando?

Solución:

Mar empezó a leer a las **23:25** y terminó a las **00:00** . ¿Cuánto tiempo estuvo leyendo?

Solución:

Fernando empezó a preparar la cena a las **19:05** y terminó a las **20:00** . ¿Cuánto tiempo estuvo preparando la cena?

Solución:

Peter empezó a preparar la comida a las **13:15** y terminó a las **14:00** . ¿Cuánto tiempo estuvo preparando la comida?

Solución:

Elisa empezó a trabajar a las **18:30** y terminó a las **19:00** . ¿Cuánto tiempo estuvo trabajando?

Solución: _____

Andrés empezó a leer a las **21:50** y terminó a las **22:00** . ¿Cuánto tiempo estuvo leyendo?

Solución: _____

Mercedes empezó a preparar la cena a las **20:10** y terminó a las **21:00** . ¿Cuánto tiempo estuvo preparando la cena?

Solución: _____

Reme empezó a preparar la comida a las **12:40** y terminó a las **13:00** . ¿Cuánto tiempo estuvo preparando la comida?

Solución: _____

Mateo empezó a trabajar a las **15:45** y terminó a las **16:00** . ¿Cuánto tiempo estuvo trabajando?

Solución: _____

Juan Luis empezó a leer a las **22:55** y terminó a las **23:00** . ¿Cuánto tiempo estuvo leyendo?

Solución: _____

Paco empezó a preparar la cena a las **19:20** y terminó a las **20:00** . ¿Cuánto tiempo estuvo preparando la cena?

Solución: _____

Miguel empezó a preparar la comida a las **13:05** y terminó a las **14:00** . ¿Cuánto tiempo estuvo preparando la comida?

Solución: _____

